

Московская олимпиада школьников по истории. 2017 год.

Заключительный этап. 7 класс.

КРИТЕРИИ

Задание 1. Верны ли следующие утверждения? («Да» – «Нет»)

1. Норманское завоевание Англии произошло после разделения Христианской церкви на Восточную православную и Западную католическую.
2. Правитель государства франков Карл Великий носил титул императора.
3. Хан Батый являлся основателем Монгольской империи.
4. В сооружении Собора Святого Петра в Ватикане принимал участие Микеланджело Буонарроти.
5. Парламент в Англии возник до начала Крестовых походов.
6. Петр I был современником Людовика XIV.
7. Объединение Испании завершилось до падения Византийской империи.
8. Китай освободился от власти монголов раньше, чем Русские земли.
9. Полк «железнобоких», созданный в ходе Английской революции, состоял на страже интересов Карла I.
10. Утрехтская уния положила начало образованию Речи Посполитой.

Ответ:

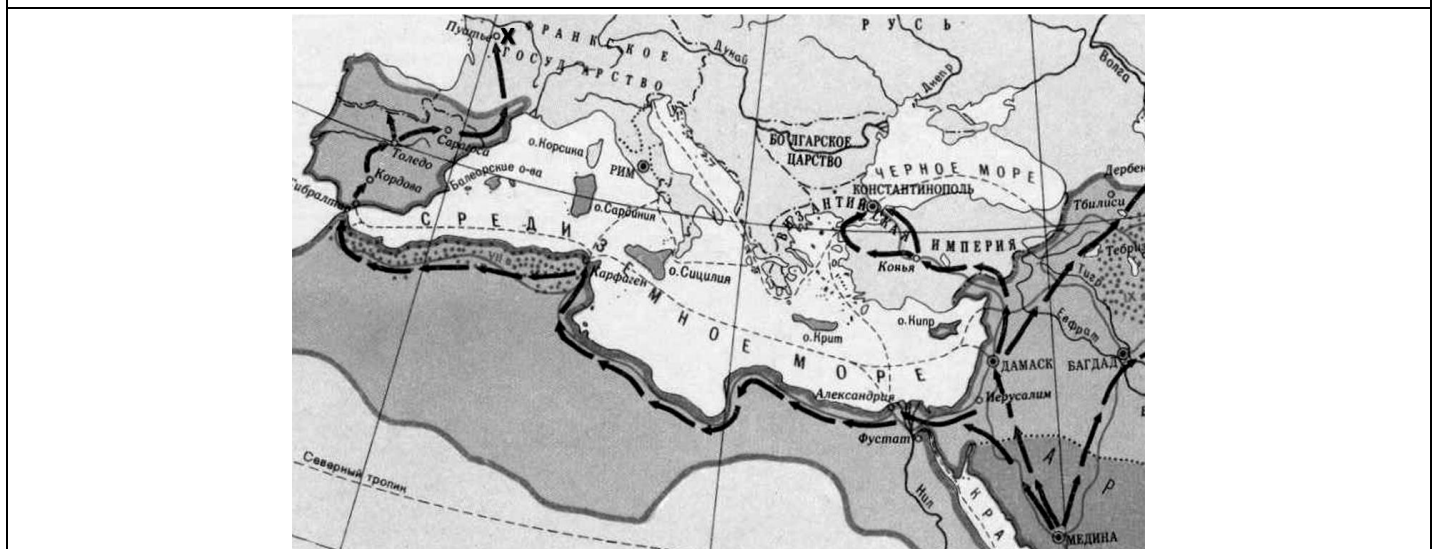
1	2	3	4	5	6	7	8	9	10
да	да	нет	да	нет	да	нет	да	нет	нет

За каждый правильный ответ 1 балл. **Всего за задание – 10 баллов.**

Задание 2. Перед Вами схемы (карты), на которых отображены события российской истории и истории зарубежных стран. Рассмотрите их внимательно и выполните задания.

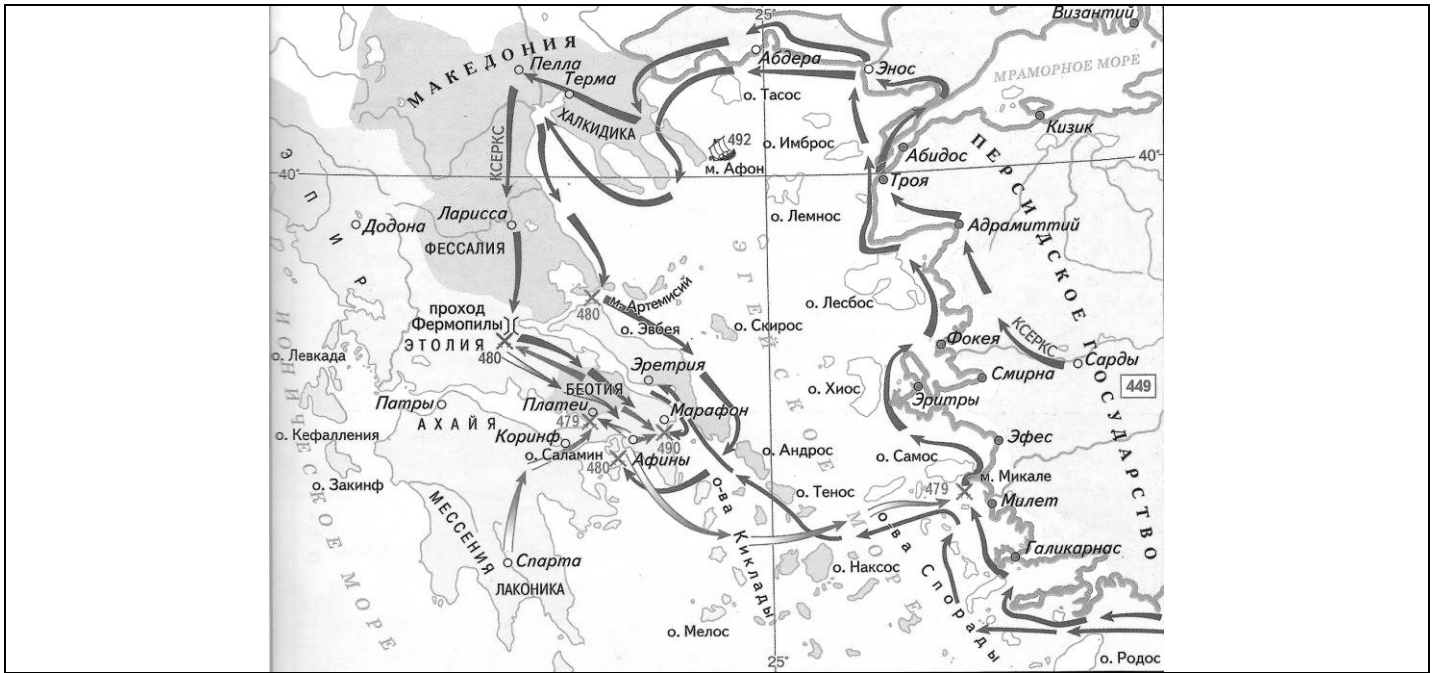


А



Б

Московская олимпиада школьников по истории. 2017 год.
 Заключительный этап. 7 класс



В



Г



Д



2.1. Укажите, какому событию посвящена каждая из карт (схем) и назовите две исторические личности, принимавшие участие в этом событии. Расположите карты (схемы) в хронологической последовательности отображенных на них событий, используя их буквенные обозначения.

Ответ:

Буквенное обозначение карты (схемы)	Событие	Участники Внимание! Могут быть указаны иные участники
В	Греко-персидская война	Ксеркс I, Леонид, Фемистокл
Д	Вторая Пуническая война	Ганнибал, Гасдрубал, Сципион
Б	Арабские завоевания	Мухаммед, Карл Мартелл
Г	Русско-византийская война	Святослав Игоревич, Иоанн I Цимисхий
А	Первый Крестовый поход	Готфрид Бульонский, Роберт Нормандский
Е	Поход «Непобедимой армады»	Филипп II, Елизавета I, Френсис Дрейк

За каждую правильно указанное событие – 1 балл.

За каждую правильно указанную историческую личность – участника – 1 балл.

За правильную хронологическую последовательность 2 балла. За последовательность с одной ошибкой 1 балл.

Всего 20 баллов.

2.2. Ответьте на вопросы по содержанию событий, отображенных на картах (схемах).

А. Укажите имя и номер римского папы – главного инициатора процесса, к которому относятся события, обозначенные стрелками на схеме (карте) А. Какую «награду» он обещал участникам?

Б. Укажите не менее двух причин и не менее двух последствий события, обозначенного стрелками на схеме Е.

В. Укажите буквенное обозначение схемы (карты), на которой отображены события, явившиеся одним из следствий процесса, обозначенного стрелками на схеме Б.

Ответ:

А. Урбан II. Обещал участникам похода отпущение грехов, освобождение от долгов **По 1 баллу за каждый элемент ответа. Всего 2 балла.**

Б. Две причины, например: поддержка английской королевой Елизаветой I антииспанского восстания в Нидерландах; стремление католической Испании оказать поддержку английским католикам в их борьбе с протестантами; рост ущерба испанского флота от нападений англичан на испанские корабли.

Два последствия, например: ослабление позиций Испании на Европейской арене; начало превращения Англии во «владычицу морей».

По 2 балла за каждый элемент ответа. Всего 8 баллов.

В. А. 1 балл.

Всего за 2.2. - 11 баллов.

Всего за задание 2 –31 балл.

Задание 3. Установите соответствие между представленными фрагментами из источников и утверждениями, данными после фрагментов. Обратите внимание, что одно утверждение может относиться к нескольким фрагментам, а также на наличие лишних утверждений. Ответы внесите в таблицу в бланке ответов.

Фрагмент 1.

«Сказала дружина ...: «Отроки Свенельда изоделись оружием и одеждой, а мы наги. Пойдем, князь, с нами за данью, и себе добудешь, и нам». И послушал их ... [князь]: пошёл ... за данью и прибавил к прежней дани новую, и творили насилие над ними мужи его. Взяв дань, пошёл он в свой город. Когда же шёл он назад, поразмыслив, сказал своей дружине: «Идите вы с данью домой, а я возвращусь и похожу ещё». И отпустил дружину свою домой, а сам с малой частью дружины вернулся, желая большего богатства. ... [Жители] же, услышав, что идет снова, держали совет с князем своим Малом и сказали: «Если повадится волк к овцам, то выносит все стадо, пока не убьют его; так и этот: если не убьем его, то всех нас погубит». И послали к нему, говоря: «Зачем идешь опять? Забрал уже всю дань». И не послушал их ... [князь]; и ..., выйдя навстречу ему из города ..., убили ... [князя] и дружинников его, так как было их мало».

Фрагмент 2.

«Князь _____ после смерти князя Святополка, созвал дружину свою в Берестове: Ратибора Киевского тысяцкого, Прокопья Белгородского тысяцкого, Святослава Переславского тысяцкого, Нажира, Мирослава, Ивана Чудиновича боярина Олегова (князя черниговского Олега Святославича), и постановили – брать проценты только до третьего платежа, если ...[дающий в долг] берёт деньги «в треть»; если кто возьмёт с должника два (третних) реза, то может взыскать и основную сумму долга; а кто возьмёт три реза, тот не должен требовать возвращения основной суммы долга.

Если же ... [дающий в долг] взимает с должника по 10 кун (20%) за год с гривны, то это не запрещается.

Если умрёт смерд, не оставив сыновей, то ... [имущество умершего] идёт князю; если после него останутся незамужние дочери, то (выделить) часть имущества им; если же дочери замужние, то им не давать части наследства.

А за ссуду хлебом с любым придатком человек не становится холопом, но если не отработает долга (в течение условленного срока), то обязан возвратить полученное; если же отработает, то ничем больше не обязан».

Фрагмент 3.

«Беззаконный же Шевкал пошел на Русь, и пришел в город, и выгнал великого князя с его двора, а сам поселился на великокняжеском дворе, исполненный гордости и ярости. И сотворил великое гонение — насилие, грабеж, избиение и поругание. Люди же городские много раз жаловались великому князю, прося оборонить их. Он же, видя озлобление своих людей и не имея возможности их оборонить, велел им терпеть. Но жители не терпели, а ждали удобного времени, которое наступило 15 августа. И возник мятеж, и кликнули люди городские и стали избивать татар, где кого поймают, пока не убили самого Шевкала. И, услышав о гибели своего баскака, беззаконный царь зимой послал рать на Русскую землю — пять темников, а воевода у них Федорчук, и убили они множество людей, а иных взяли в плен. Великий же князь Александр, чтобы не терпеть преследований, оставив русский великокняжеский престол и все свои наследственные владения, ушел во Псков».

Фрагмент 4.

«Июня в 23 день был великому государю выход на праздник Сретения Пресвятой Богородицы на Усретенку. И того числа была смута великая на Москве и били челом великому государю всем народом посадские и всяких чинов люди во всяких налогах и в разоренье на Левонтья Степанова сына Плещеева. А боярин Борис Иванович Морозов да окольныйчый Петр Тихонович Траханиотов за него стали. И как государь пошел от праздника и за ним, государем, пришли на его, государев, двор всяких чинов посадские люди всем народом и всех приказов стрельцы и били челом великому государю с большим невежеством. И великий государь к ним послал боярина князь Михаила Михайловича Темкина-Ростовского да окольногочого Бориса Ивановича Пушкина да думного дьяка Михаила Волошенинова с том, что они бьют челом ему, великому государю, шумно и с большим невежеством, и указал было великий государь тех челобитчиков имать головам стрелецким. И стрельцы учинились непослушны и были с ними заодно и боярина князь Михаила Михайловича Темкина-Ростовского да окольногочого Бориса Ивановича Пушкина да думного дьяка Михаила Волошенинова обесчестили и платье на них ободрали, едва они ушли вверх к великому государю. И пошли всяких чинов люди из города из Кремля вон и, выйдя, начали грабить боярские дворы».

Фрагмент 5.

«Того же полку солдаты, которые стояли в разных слободах, сказали: как де начали на Москве бить в набаты, они начали выходить из дворов на улицы. И в то де время москвичи всяких чинов многие люди идут с Москвы в село Коломенское разными улицами. И они де пошли в Коломенское с ними же без дела и, придя, стояли с ними вместе.

Того же всего полку солдаты спрашиваны с пристрастьем по ротам порознь, чтоб сказали правду: чернослободцев из дворов и из лавок в село Коломенское они высылали ль и им говорили ль, чтоб они шли в село Коломенское ...[толпой]; и до нынешнего смутного времени не было ль у них промеж себя какого воровского умыслу и заводу; и ведают ли они, кто воровское письмо писал и на Москве к решётке приклеивал; и знают ли тех, кто то письмо к великому государю подносил? И солдаты всех рот сказали, что у них до нынешнего времени ни о чём воровского умыслу и заводу не бывало и кто воровское письмо писал и к решёткам приклеивал и к великому государю подносил, – тех людей не знают же. А они де в Коломенское пришли за начальными людьми, а иные собою с москвичи, ровных чинов с людьми спроста, смотря на людей, и в том де они перед великим государем виноваты».


1. В отрывке идёт речь о восстании, вызванном несовершенством системы налогообложения.
2. Автор обращает внимание, что князь все решения принимает единолично.
3. Установление княгиней Ольгой «уроков» и «погостов», стало следствием событий, описанных в отрывке.
4. В отрывке упомянуты как лично свободные, так и зависимые категории населения Древнерусского государства.
5. Князь, имя которого пропущено в тексте, – инициатор возведения соборов Святой Софии в Киеве и Новгороде.
6. Город, в котором происходили описанные в отрывке события, являлся соперником Москвы в борьбе за роль центра объединения русских земель.
7. В отрывке упомянут князь, ко времени правления которого относится возведение краснокирпичных стен Московского Кремля.
8. События, описанные в отрывке, происходят в городе, где в период, к которому относятся описываемые события, существовала республиканская форма правления.
9. События, описанные в отрывке, относятся ко второй половине века, в котором произошел раскол Русской церкви на никонианскую и старообрядческую.
10. Одной из причин восстания, об участниках которого идёт речь в отрывке, явилось ухудшение материального положения податного населения из-за изменений в денежной системе страны.
11. В документе идёт речь о народном движении, участниками которого, согласно тексту отрывка, были служилые люди, составлявшие в Российском государстве XVI–XVII вв. постоянное пешее войско.
12. В документе идёт речь о народном движении, участники которого, согласно тексту отрывка, распространяли агитационные материалы, содержавшие информацию о требованиях бунтовщиков.
13. В отрывке описаны последствия восстания полян.
14. События, о которых идёт речь в отрывке, произошли в 40-е годы X в.
15. Князь, имя которого пропущено в отрывке, – инициатор Любечского съезда.

Ответ:

Фрагмент 1	Фрагмент 2	Фрагмент 3	Фрагмент 4	Фрагмент 5
1; 3; 14	4; 13; 15	6	1; 11	9; 10; 11; 12

По 2 балла за каждый верно указанный элемент ответа. Максимум – 26 баллов.

Задание 4. Рассмотрите рекламный проспект экскурсионного тура и размещённые ниже иллюстрации, использованные для составления коллажа, представленного на рекламном проспекте. Выполните задания.



А



Б




В



Г



Д



Е



Ж

4.1. Укажите тему, которой посвящён экскурсионный тур, уточнив эпоху, к которой она относится, с точностью до века.

Ответ: Реформация и религиозные войны в Европе в XVI в. 4 балла

4.2. Соотнесите цифровые обозначения маршрутных точек на рекламном проспекте с буквенными обозначениями иллюстраций, изображающих события, произошедшие в этих городах.

Ответ:

1	2	3	4	5	6	7
В	Б	Д	А	Г	Ж	Е

По 1 баллу за каждую верно указанную позицию. Максимум – 7 баллов.

4.3. Укажите названия городов, которые планируется посетить в рамках предлагаемой экскурсионной поездки.

Ответ:

Цифровое обозначение	Название города
1	Нант
2	Париж
3	Вормс
4	Виттенберг
5	Аугсбург
6	Тренто (Тридент)
7	Рим

По 1 баллу за каждое верно указанное название города. Максимум – 7 баллов.

4.4. Предложите вариант плана посещения обозначенных городов, основываясь на хронологической последовательности исторических событий, отображенных в иллюстрациях. Расположите города, обозначенные на рекламном проспекте цифрами, в соответствии с последовательностью произошедших в них событий, отображенных в иллюстрациях.

Ответ:

4	3	7	6	5	2	1
---	---	---	---	---	---	---

За полностью верную последовательность – 5 баллов.

За последовательность с 1 ошибкой – 2 балла.

Всего за задание 4 – 23 балла

Максимум за работу 90 баллов.